

Função definida por várias sentenças

▶ Função definida por mais de uma sentença

Você sabe o que é o imposto de renda? Sabe como ele é calculado?

Todo mês, ao receber seu salário, muitos trabalhadores brasileiros do mercado formal de trabalho notam, em seu holerite, que há um desconto de parte desse salário, um tributo sobre o rendimento (imposto de renda) pago ao Governo Federal.

Em meados de 2015, o imposto de renda era calculado com base na seguinte tabela:

**Tabela de incidência mensal
(a partir do mês de abril do ano calendário de 2015)**

Rendimento mensal (em R\$)	Alíquota (em %)	Parcela a deduzir (em R\$)
Até 1 903,98	—	—
De 1 903,99 até 2 826,65	7,5	142,80
De 2 826,66 até 3 751,05	15	354,80
De 3 751,06 até 4 664,68	22,5	636,13
Acima de 4 664,68	27,5	869,36

Fonte: Receita Federal do Brasil. Disponível em: <idg.receita.fazenda.gov.br/acesso-rapido/tributos/irpf-imposto-de-renda-pessoa-fisica#tabelas-para-atualiza-o-do-custo-de-bens-e-direitos>. Acesso em: 4 mar. 2016.

A tabela mostra a alíquota de imposto e a parcela a deduzir para cada faixa de rendimento mensal. Para se calcular o imposto de renda (IR), é necessário calcular uma porcentagem do salário e, do valor obtido, subtrair uma parcela. Acompanhe os exemplos:

- Um trabalhador com rendimentos mensais de R\$ 1 500,00 fica isento do pagamento do imposto, isto é, $IR = 0$;
- Um trabalhador com rendimento de R\$ 2 500,00 no mês tem seu IR assim calculado (veja a 2ª faixa de rendimento mensal da tabela):

$$1^{\text{a}}) 7,5\% \text{ de } 2\,500 = \frac{7,5}{100} \cdot 2\,500 = 187,50$$

$$2^{\text{a}}) 187,50 - 142,80 = 44,70, \text{ isto é, } IR = R\$ 44,70$$

- Um trabalhador com salário mensal de R\$ 4 000,00 tem seu IR assim calculado (veja a 4ª faixa de rendimento mensal da tabela):

$$1^{\text{a}}) 22,5\% \text{ de } 4\,000 = \frac{22,5}{100} \cdot 4\,000 = 900$$

$$2^{\text{a}}) 900 - 636,13 = 263,87, \text{ isto é, } IR = R\$ 263,87$$

- Um trabalhador cujo salário mensal é R\$ 8 000,00 tem seu IR assim calculado (veja a última faixa de rendimento mensal da tabela):

$$1^{\text{a}}) 27,5\% \text{ de } 8000 = \frac{27,5}{100} \cdot 8000 = 2200$$

$$2^{\text{a}}) 2200 - 869,36 = 1330,64, \text{ isto é, IR} = \text{R\$ } 1330,64$$

Em geral, se o salário do trabalhador é x , seu imposto de renda mensal y é assim calculado:

- Se $0 < x \leq 1903,98$, então $y = 0$
- Se $1903,99 \leq x \leq 2826,65$, então $y = 0,075 \cdot x - 142,80$
- Se $2826,66 \leq x \leq 3751,05$, então $y = 0,15 \cdot x - 354,80$
- Se $3751,06 \leq x \leq 4664,68$, então $y = 0,225 \cdot x - 636,13$
- Se $x > 4664,68$, então $y = 0,275 \cdot x - 869,36$

Podemos observar que y é função de x e essa relação é estabelecida por cinco sentenças. Usa-se uma sentença ou outra dependendo do intervalo em que o valor de x se enquadra. Esse é um exemplo de **função definida por mais de uma sentença**.

Veja o exemplo seguinte.



PENSE NISTO:

Como são obtidos os valores da "parcela a deduzir" na 3ª coluna da tabela do imposto de renda?

EXEMPLO 1

Considere agora o quadro a seguir, que apresenta parte da conta de água de uma residência que gastou 17 m³ de água. Além do valor a pagar, a conta mostra como calculá-lo em função do consumo de água (em m³). Existe uma tarifa mínima e diferentes faixas de tarifação.

Companhia de saneamento – Tarifa de água/m³

Faixa de consumo (em m ³)	Tarifas (em reais)	Consumo	Valor (em reais)
até 10	6,00	tarifa mínima	6,00
de 11 a 20	0,93 por m ³	7	6,51
de 21 a 50	2,33 por m ³		
acima de 50	2,98 por m ³		
		Total	12,51

Observe que, à medida que o consumo aumenta, o valor do metro cúbico de água fica mais caro. É uma forma de privilegiar famílias cujo consumo é menor com tarifas mais baixas, estimulando-as a diminuir o consumo de água e alertando a população da necessidade do consumo mais consciente da água.

Veja qual seria o valor da conta se o consumo dobrasse, isto é, se passasse a 34 m³ de água:

$$\underbrace{6,00}_{\text{primeiros } 10 \text{ m}^3} + \underbrace{0,93 \cdot 10}_{\text{de } 11 \text{ m}^3 \text{ a } 20 \text{ m}^3} + \underbrace{2,33 \cdot 14}_{\text{de } 21 \text{ m}^3 \text{ a } 34 \text{ m}^3} = 6,00 + 9,30 + 32,62 = 47,92$$



PENSE NISTO:

Nesse exemplo, o valor da conta e o número de m³ consumidos são grandezas diretamente proporcionais?

8 No quadro seguinte estão representados os valores do metro cúbico (m^3) de água praticados em residências de certo município, de acordo com a faixa de consumo.

a) Determine o valor da conta de água de duas residências, R_1 e R_2 , cujos consumos foram $28 m^3$ e $35 m^3$, respectivamente.

b) Qual o consumo correspondente a uma conta de água no valor de R\$ 112,80?

c) Qual é a lei da função que relaciona o valor total (v), em reais, ao consumo de x metros cúbicos.

Faixa de consumo (m^3)	Tarifa (R\$)
Até $20 m^3$	1,20 por m^3
De $21 m^3$ a $50 m^3$	1,80 por m^3 excedente
Acima de $50 m^3$	2,90 por m^3 excedente

Gráfico

Vamos construir gráficos de algumas funções definidas por várias sentenças.

EXEMPLO 2

Para construir o gráfico da função $f: \mathbb{R} \rightarrow \mathbb{R}$ definida por $f(x) = \begin{cases} 1, & \text{se } x < 0 \\ x + 1, & \text{se } x \geq 0 \end{cases}$, podemos construir o gráfico correspondente a cada sentença e reuni-los.

- 1ª passo: construímos o gráfico da função constante dada por $f(x) = 1$, mas só consideramos a parte em que $x < 0$ (figura 1);
- 2ª passo: construímos o gráfico da função afim dada por $f(x) = x + 1$, mas só consideramos a parte em que $x \geq 0$ (figura 2);
- 3ª passo: reunimos os dois gráficos em um só (figura 3).

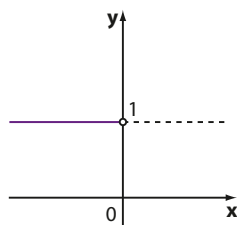


figura 1

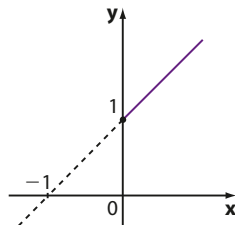


figura 2

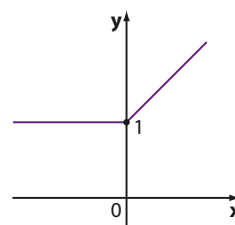


figura 3

Observe que $\text{Im} = \{y \in \mathbb{R} \mid y \geq 1\}$.

EXEMPLO 3

Vamos construir o gráfico da função f de \mathbb{R} em \mathbb{R} tal que

$$f(x) = \begin{cases} 1 - x, & \text{se } x \leq 1 \\ 2, & \text{se } 1 < x \leq 2 \\ 4 - x, & \text{se } x > 2 \end{cases}$$

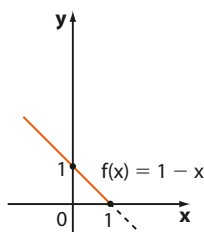


figura 1

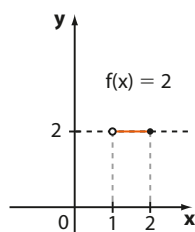


figura 2

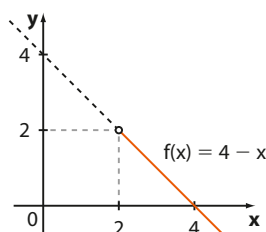


figura 3

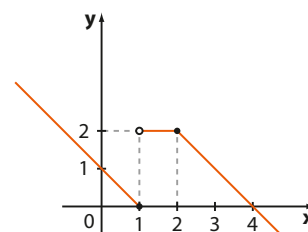


figura 4

Note que $\text{Im} = \mathbb{R}_+$.



PENSE NISTO:

As retas dadas pelas equações $y = 1 - x$ e $y = 4 - x$ se intersectam?



EXERCÍCIOS



9 Faça o gráfico das seguintes funções $f: \mathbb{R} \rightarrow \mathbb{R}$, destacando seu conjunto imagem.

a) $f(x) = \begin{cases} 2, & \text{se } x \geq 0 \\ -1, & \text{se } x < 0 \end{cases}$

b) $f(x) = \begin{cases} 2x, & \text{se } x \geq 1 \\ 2, & \text{se } x < 1 \end{cases}$

c) $f(x) = \begin{cases} -x + 1, & \text{se } x \geq 3 \\ 4, & \text{se } x < 3 \end{cases}$

10 Construa os gráficos das seguintes funções definidas em \mathbb{R} e forneça o conjunto imagem.

a) $f(x) = \begin{cases} 1, & \text{se } x < 2 \\ 3, & \text{se } x = 2 \\ 2, & \text{se } x > 2 \end{cases}$

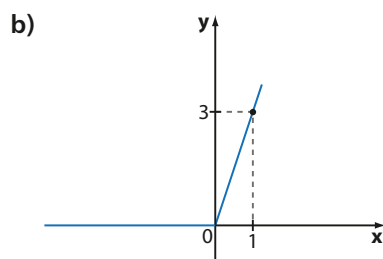
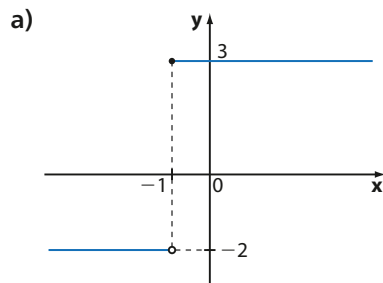
b) $f(x) = \begin{cases} 2x + 1, & \text{se } x \geq 1 \\ 4 - x, & \text{se } x < 1 \end{cases}$

c) $f(x) = \begin{cases} x^2, & \text{se } x \geq 0 \\ -x, & \text{se } x < 0 \end{cases}$

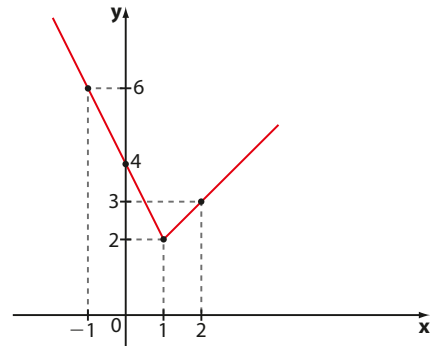
d) $f(x) = \begin{cases} x^2 - 2x, & \text{se } x \geq 0 \\ x, & \text{se } x < 0 \end{cases}$

e) $f(x) = \begin{cases} x - 2; & \text{se } x \geq 2 \\ -x + 2; & \text{se } x < 2 \end{cases}$

11 Forneça a lei de cada uma das funções de \mathbb{R} em \mathbb{R} cujos gráficos estão abaixo representados:

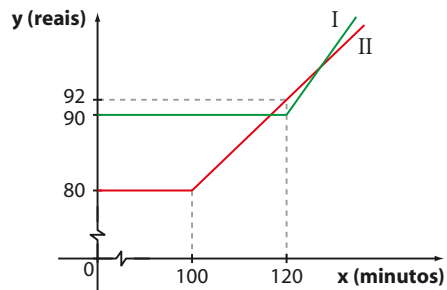


12 Seja $f: \mathbb{R} \rightarrow \mathbb{R}$ a função representada no gráfico abaixo:



- Qual é a lei que define f ?
- Resolva a equação $f(x) = 5$. Verifique no gráfico as soluções encontradas.
- Para que valores reais de k a equação $f(x) = k$ apresenta soluções?

13 Uma empresa de telefonia móvel oferece a seus clientes dois planos mensais. No plano Alfa, cobra R\$ 80,00 para até 100 minutos de ligação para números de outras operadoras e R\$ 0,60 por minuto excedente. No plano Beta, cobra R\$ 90,00 por até 120 minutos de ligações para outras operadoras e R\$ 0,80 por minuto excedente. O gráfico seguinte mostra a relação entre o valor mensal pago e o número de minutos de ligações para outras operadoras, para os dois planos:



- Associe os gráficos I e II aos respectivos planos.
- Determine o valor pago por um cliente **A** que usar 90 minutos mensais no plano Alfa e o valor pago por um cliente **B** que usar 140 minutos nesse mesmo plano, por mês.
- Uma conta de R\$ 154,00, no plano Beta, corresponde a quantos minutos de ligações?
- Existem dois intervalos de tempo para os quais é mais vantajoso optar pelo plano Alfa. Localize-os no gráfico, determinando-os em seguida. (Considere nos cálculos um número inteiro de minutos.)

▶ Módulo de um número real

O conceito de módulo de um número real é importante para a Matemática. Ele é necessário, por exemplo, para definir $\sqrt{x^2}$. Se $x \geq 0$, $\sqrt{x^2} = x$, e, se $x \leq 0$, $\sqrt{x^2} = -x$. Veja os exemplos seguintes:

$$\text{I)} \sqrt{3^2} = \sqrt{9} = 3$$

$$\text{IV)} \sqrt{(-5)^2} = \sqrt{25} = 5$$

$$\text{II)} \sqrt{(-3)^2} = \sqrt{9} = 3$$

$$\text{V)} \sqrt{0^2} = \sqrt{0} = 0$$

$$\text{III)} \sqrt{5^2} = \sqrt{25} = 5$$

Note que $x \geq 0$ em (I), (III) e (V), e $x < 0$ em (II) e (IV). Para definir $\sqrt{x^2}$, podemos usar o conceito de módulo de um número real, já apresentado no capítulo 2 e que será aprofundado agora.

Dado um número real x , chama-se **módulo** ou **valor absoluto de x** , e se indica por $|x|$, o número real não negativo tal que:

$$|x| = \begin{cases} x, & \text{se } x \geq 0 \\ \text{ou} \\ -x, & \text{se } x < 0 \end{cases}$$

Isso significa que:

- o módulo de um número real não negativo é igual ao próprio número;
- o módulo de um número real negativo é igual ao oposto desse número;
- o módulo de um número real qualquer é sempre maior ou igual a zero.

Vejamos alguns exemplos:

$$\bullet |2| = 2$$

$$\bullet |-7| = 7$$

$$\bullet |0| = 0$$

$$\bullet \left| -\frac{4}{3} \right| = \frac{4}{3}$$

$$\bullet |-\sqrt{3}| = \sqrt{3}$$

$$\bullet \underbrace{|\sqrt{7} - \sqrt{2}|}_{\text{positivo}} = \sqrt{7} - \sqrt{2}$$

$$\bullet \underbrace{|3 - \pi|}_{\text{negativo}} = -(3 - \pi) = \pi - 3$$



PENSE NISTO:

É possível definir

$$|x| = \begin{cases} x, & \text{se } x > 0 \\ \text{ou} \\ -x, & \text{se } x \leq 0 \end{cases} ?$$

OBSERVAÇÃO

Com a definição de módulo de um número real, podemos escrever: $\sqrt{x^2} = |x|$. Assim, temos:

$$\bullet \sqrt{(-3)^2} = |-3| = 3$$

$$\bullet \sqrt{(-5)^2} = |-5| = 5$$

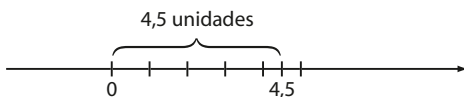
$$\bullet \sqrt{3^2} = |3| = 3$$

$$\bullet \sqrt{5^2} = |5| = 5$$

▶ Interpretação geométrica

O módulo de um número real x representa a distância, na reta real, entre x e 0 (origem). Veja estes exemplos:

- $|4,5| = 4,5$: distância entre 4,5 e 0



- $|-2| = 2$: distância entre -2 e 0



- $|0| = 0$: nesse caso, x é a própria origem e, assim, a distância é nula.

Observe que, para todo número real x , a distância entre 0 e x é sempre expressa por um número real positivo ou nulo.

► Propriedades

Vamos conhecer algumas propriedades do módulo de um número real.

$$\text{I) } \forall x \in \mathbb{R}, |x| \geq 0$$

Demonstração:

É imediata, pois: se $x > 0$, $|x| = x > 0$

se $x < 0$, $|x| = -x > 0$

e se $x = 0$, $|x| = 0$

$$\text{II) } |x|^2 = x^2, \forall x \in \mathbb{R}$$

Demonstração:

Se $x \geq 0$, $|x| = x$ e, então, $|x|^2 = |x| \cdot |x| = x \cdot x = x^2$

Se $x < 0$, $|x| = -x$ e, então, $|x|^2 = |x| \cdot |x| = (-x) \cdot (-x) = x^2$

III) Seja $a \in \mathbb{R}_+$

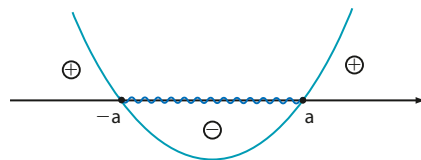
$$|x| \leq a \Leftrightarrow -a \leq x \leq a$$

Demonstração:

$$|x| \leq a \stackrel{a \geq 0}{\Leftrightarrow} |x|^2 \leq a^2$$

Pela propriedade II, temos: $x^2 \leq a^2 \Leftrightarrow x^2 - a^2 \leq 0$.

Como a é fixo, podemos pensar nessa desigualdade como uma inequação do 2º grau, na incógnita x . Estudando o sinal de $y = x^2 - a^2$, temos:



Assim, como queremos $x^2 - a^2 \leq 0$, temos que $-a \leq x \leq a$, isto é, $|x| \leq a \Leftrightarrow$

$$\Leftrightarrow -a \leq x \leq a, \forall a \in \mathbb{R}_+$$

Exemplo:

$$|x| \leq 2 \Leftrightarrow -2 \leq x \leq 2$$

IV) Seja $a \in \mathbb{R}_+$

$$|x| \geq a \Leftrightarrow x \leq -a \text{ ou } x \geq a$$

Demonstração:

$$|x| \geq a \stackrel{a \geq 0}{\Leftrightarrow} |x|^2 \geq a^2$$

Pela propriedade II, temos:

$$x^2 \geq a^2 \Leftrightarrow x^2 - a^2 \geq 0$$

Resolvendo essa inequação do 2º grau na incógnita x , temos:

$$x \leq -a \text{ ou } x \geq a, \text{ isto é, } |x| \geq a \Leftrightarrow x \leq -a \text{ ou } x \geq a$$

Exemplo:

$$|x| > 4 \Leftrightarrow x < -4 \text{ ou } x > 4$$



PENSE NISTO:

Qual é a interpretação geométrica para esse exemplo?



PENSE NISTO:

Qual é a interpretação geométrica para esse exemplo?



EXERCÍCIOS



14 Calcule:

a) $|-9|$

b) $\left|\frac{5}{3}\right|$

c) $\left|-\frac{1}{2}\right|$

d) $|0|$

e) $|-\sqrt{2}|$

f) $|0,83|$

g) $\sqrt{8^2}$

h) $\sqrt{(-8)^2}$

i) $\sqrt{\left(-\frac{2}{9}\right)^2}$

15 Calcule:

a) $|-5 - 8|$

b) $|2 \cdot (-3)|$

c) $|0,3 - 0,1|$

d) $|0,1 - 0,3|$

e) $\left|\frac{3}{5} - 1\right|$

f) $\left|-\frac{4}{3} + 1\right|$

g) $-|-\sqrt{7}|$

h) $|4| \cdot |-2|$

i) $|4 \cdot (-2)|$

16 Calcule o valor das expressões:

a) $A = |3 - \sqrt{5}| - |\sqrt{5} - 3|$

b) $B = |-\sqrt{2} - 1| + 2 \cdot |1 - \sqrt{2}|$

c) $C = ||\sqrt{10}| - |-3||$

17 Para $x \in \mathbb{R}$, $x > 4$, calcule o valor de cada expressão seguinte:

a) $\frac{|x - 4|}{4 - x}$

c) $\frac{|x|}{x} + \frac{|x - 4|}{x - 4}$

b) $3 + \frac{|x - 4|}{x - 4}$

d) $\frac{|4 - x|}{x - 4}$

18 Seja $\{x, y\} \subset \mathbb{R}$. São verdadeiras as igualdades?

I) $|x| + |y| = |x + y|$

II) $|x| - |y| = |x - y|$

III) $|x| \cdot |y| = |x \cdot y|$

IV) $|x|^3 = x^3$

Prove a(s) que for(em) verdadeira(s); para a(s) falsa(s), dê um contraexemplo.

Função modular

Chama-se **função modular** a função f de \mathbb{R} em \mathbb{R} que associa cada número real x ao seu módulo (valor absoluto), isto é, f é definida pela lei $f(x) = |x|$.

Utilizando o conceito de módulo de um número real, a função modular pode ser assim definida:

$$f(x) = \begin{cases} x, & \text{se } x \geq 0 \\ -x, & \text{se } x < 0 \end{cases}$$

Gráfico

Para construir o gráfico da função modular, procedemos assim:

- 1ª passo: construímos o gráfico da função $f(x) = x$, mas só consideramos a parte em que $x \geq 0$ (figura 1), que é a bissetriz do 1º quadrante.
- 2ª passo: construímos o gráfico da função $f(x) = -x$, mas só consideramos a parte em que $x < 0$ (figura 2), que é a bissetriz do 2º quadrante.
- 3ª passo: reunimos os dois gráficos anteriores (figura 3).

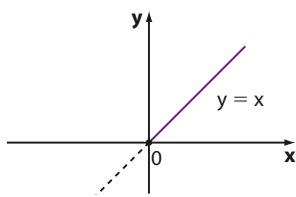


figura 1

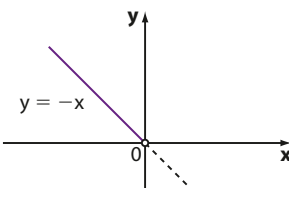


figura 2

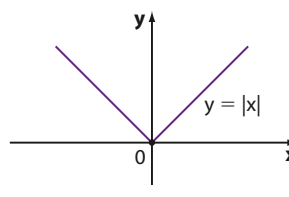


figura 3

Observe que o conjunto imagem de f é $\text{Im} = \{y \in \mathbb{R} \mid y \geq 0\}$, pois $\forall x \in \mathbb{R}$, $|x| \geq 0$.



PENSE NISTO:

Considerando f a função modular, é possível que tenhamos x_1 e x_2 reais, com $x_1 \neq x_2$, mas $f(x_1) = f(x_2)$?

▶ Outros gráficos

I) A partir do gráfico da função f dada por $y = |x|$, podemos construir o gráfico de outras funções definidas por uma lei do tipo $y = |x| + k$, em que $k \in \mathbb{R}$.

Vamos considerar, como exemplo, a função g de \mathbb{R} em \mathbb{R} definida por $g(x) = |x| + 1$. Temos:

- Se $x \geq 0$, então $|x| = x$ e $g(x) = x + 1$ (figura 1).
- Se $x < 0$, então $|x| = -x$ e $g(x) = -x + 1$ (figura 2).

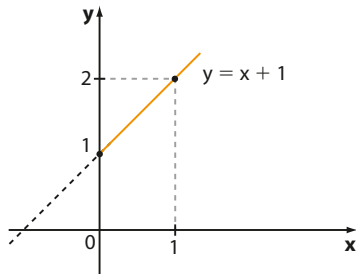


figura 1

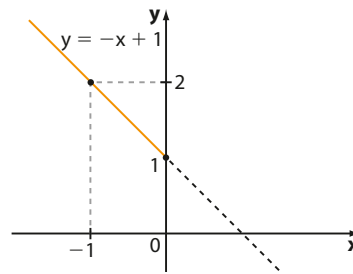


figura 2

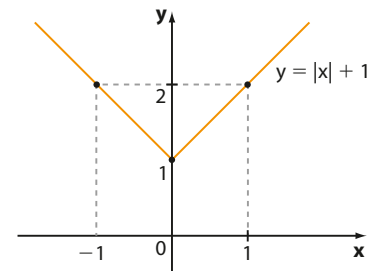
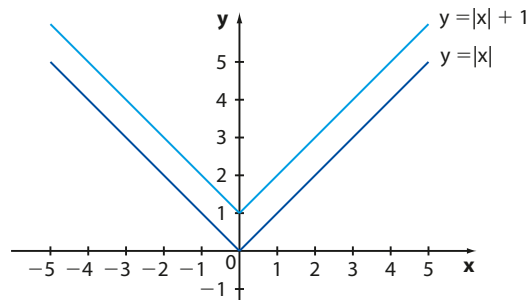


figura 3

Observe que o gráfico obtido para a função g definida por $y = |x| + 1$ (figura 3) corresponde ao gráfico da função modular ($y = |x|$), deslocado, verticalmente, uma unidade para cima. A esse deslocamento damos o nome de **translação vertical**. Acompanhe os dois gráficos feitos, em um mesmo plano.



PENSE NISTO:

É possível determinar o conjunto imagem da função real $y = |x| + 1$ sem construir seu gráfico?

II) A partir do gráfico da função dada por $y = |x|$, podemos construir o gráfico de outras funções definidas por uma lei do tipo $y = |x + k|$, em que $k \in \mathbb{R}$.

Consideremos, por exemplo, a função f , de \mathbb{R} em \mathbb{R} , definida por $f(x) = |x - 2|$.

Como $|x - 2| = \begin{cases} x - 2, & \text{se } x - 2 \geq 0, \text{ isto é, } x \geq 2 \\ -x + 2, & \text{se } x - 2 < 0, \text{ isto é, } x < 2 \end{cases}$, procedemos assim:

- 1ª passo: construímos o gráfico de $y = x - 2$, mas só consideramos a parte em que $x \geq 2$ (figura 1).
- 2ª passo: construímos o gráfico de $y = -x + 2$, mas só consideramos a parte em que $x < 2$ (figura 2).
- 3ª passo: reunimos os dois gráficos anteriores (figura 3).

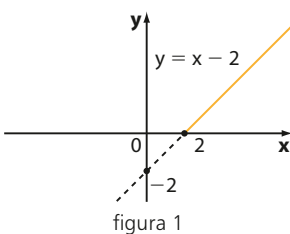


figura 1

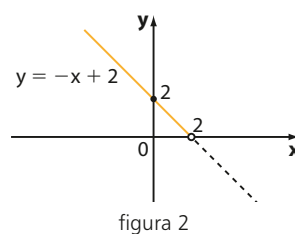


figura 2

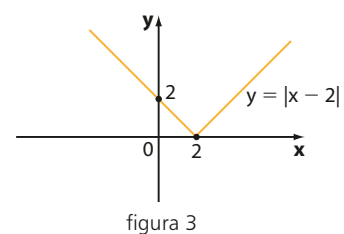
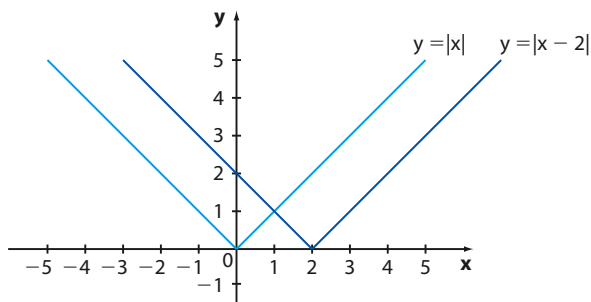


figura 3

Note que o gráfico obtido na figura 3 corresponde ao gráfico da função modular ($y = |x|$) transladado, na horizontal, duas unidades para a direita. Veja os dois gráficos construídos em um mesmo plano.


PENSE NISTO:

Como você representaria o gráfico de $y = |x + 2|$?


EXERCÍCIOS


- 19** Construa o gráfico das seguintes funções definidas de \mathbb{R} em \mathbb{R} , dadas por:
- a) $y = |x| + 2$ c) $y = |x| + 5$
b) $y = |x| - 3$ d) $y = |x| - \frac{1}{2}$
- 20** Construa os gráficos das funções de \mathbb{R} em \mathbb{R} , definidas por:
- a) $y = |x - 1|$ c) $y = |x + 3|$
b) $y = |x + 1|$ d) $y = |x - 3|$
- 21** A partir do gráfico de $y = |x|$, represente a sequência de gráficos necessária para construir o gráfico da função $f: \mathbb{R} \rightarrow \mathbb{R}$ definida por $f(x) = |x - 1,5| + 2$.
- 22** Seja $f: \mathbb{R} \rightarrow \mathbb{R}$ definida pela lei $f(x) = |2x - 4| + 3$.
- a) Qual é o valor de $f(0) + f(1)$?
b) Sem fazer o gráfico, é possível encontrar o conjunto imagem de f . Determine-o.

Equações modulares

Notemos uma propriedade do módulo dos números reais:

- $|x| = 2 \Rightarrow |x|^2 = 2^2 \Rightarrow x^2 = 4 \Rightarrow x = +2$ ou $x = -2$
- $|x| = \frac{3}{7} \Rightarrow |x|^2 = \left(\frac{3}{7}\right)^2 \Rightarrow x^2 = \frac{9}{49} \Rightarrow x = +\frac{3}{7}$ ou $x = -\frac{3}{7}$

De modo geral, sendo k um número real positivo, temos:

$$|x| = k \Rightarrow x = k \text{ ou } x = -k$$

Por exemplo: $|x| = 5 \Rightarrow x = -5$ ou $x = 5$

Utilizando essa propriedade, vejamos como solucionar algumas equações modulares.


PENSE NISTO:

Qual é a interpretação geométrica para o exemplo ao lado?


EXERCÍCIOS RESOLVIDOS

- 2** Resolva, em \mathbb{R} , a equação $|3x - 1| = 2$.

Solução:

$$\text{Temos: } |3x - 1| = 2 \Rightarrow \begin{cases} 3x - 1 = 2 \Rightarrow x = 1 \\ \text{ou} \\ 3x - 1 = -2 \Rightarrow x = -\frac{1}{3} \end{cases}$$

$$S = \left\{ 1, -\frac{1}{3} \right\}$$

3 Resolva a equação $|2x + 3| = x + 2$, em \mathbb{R} .

Solução:


Para todo x real, sabemos que $|2x + 3| \geq 0$. Assim, para que a igualdade seja possível, devemos ter $x + 2 \geq 0$, ou seja, $x \geq -2$ *.

Supondo $x \geq -2$, temos:

$$|2x + 3| = x + 2 \Rightarrow \begin{cases} 2x + 3 = x + 2 \Rightarrow x = -1 \\ \text{ou} \\ 2x + 3 = -x - 2 \Rightarrow x = -\frac{5}{3} \end{cases}$$

- $x = -1$ satisfaz *
- $x = -\frac{5}{3}$ satisfaz *

$$S = \left\{ -1, -\frac{5}{3} \right\}$$



PENSE NISTO:

Qual é o conjunto solução da equação $|2x + 3| = -2$?



EXERCÍCIOS



23 Resolva, em \mathbb{R} , as equações:

- a) $|x| = 4$
- b) $|x| = \frac{3}{2}$
- c) $|x| = 0$
- d) $|x| = -2$
- e) $|x| = -\frac{5}{3}$
- f) $|x|^2 = 9$

24 Resolva, em \mathbb{R} , as equações seguintes:

- a) $|3x - 2| = 1$
- b) $|x + 6| = 4$
- c) $|x^2 - 2x - 5| = 3$
- d) $|x^2 - 4| = 5$
- e) $||2x - 1| - 3| = 2$

25 Resolva, em \mathbb{R} , as seguintes equações:

- a) $|-2x + 5| = x$
- b) $|3x - 1| = x + 2$
- c) $|10 - 2x| = 2x - 5$
- d) $|3x - 4| = x^2$
- e) $|2x - 1| = 2x - 1$
- f) $|x - 3| = 3 - x$
- g) $|x|^2 - 3|x| = 10$

26 Determine os valores reais de p a fim de que a equação $|4x - 5| = p - 3$ admita solução.

27 Um *site* de compras coletivas lançou uma promoção válida para os doze primeiros dias de um certo mês. A lei seguinte representa o número (n) de dezenas de cupons vendidos no dia t ; com $t \in \{1, 2, \dots, 12\}$:

$$n(t) = 3 \cdot |18 - 2t| + 40$$

a) Quantos cupons foram vendidos no dia 3? E no dia 10?

b) Em que dia foram vendidos 520 cupons?

c) Em que dia foi vendida a menor quantidade de cupons e qual foi essa quantidade?

28 Em um laboratório de Física foi feito um experimento cujo objetivo era medir, em centímetros, a deformação de uma mola elástica. Tal experimento foi executado por 5 duplas de alunos, cada uma das quais repetiu-o por duas vezes, em condições idênticas. No quadro seguinte encontram-se as duas medições obtidas pelas duplas, com exceção da 2ª medição feita pela dupla **E**.

Dupla	1ª medição (em cm)	2ª medição (em cm)
A	4,175	4,189
B	4,190	4,181
C	4,179	4,185
D	4,177	4,188
E	4,176	

O professor calculou, para cada dupla, o módulo m da diferença das medidas obtidas e considerou aceitável os casos em que m não superasse 0,01 cm.

- a) Entre as duplas **A, B, C, D**, quais tiveram resultado considerado aceitável?
- b) Determine o valor que não consta no quadro, sabendo que, para a dupla **E**, obteve-se $m = 0,012$.

